

Auf Spurensuche: vom Westhafen in das Stadtzentrum

▣ Wie heißt Du? (Vor- und Nachname)

... und Du?

Jetzt geht es los!

Station 1

Aus welchen zwei Materialien besteht die Brückenkonstruktion? Beide Materialien beginnen mit dem gleichen Buchstaben.

_____ / _____

In welchem Jahr wurde die Vorgängerbrücke gesprengt?

Station 2

Das Druckwasserwerk wurde im Jahr _____ erbaut.

▣ Geht weiter Richtung Osten, am Main entlang.

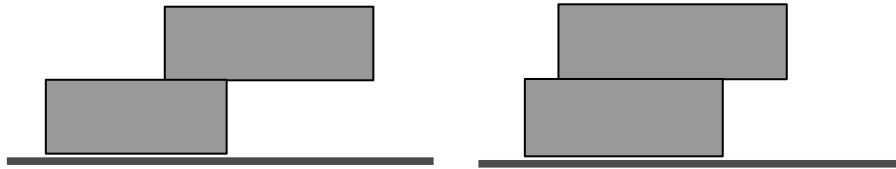
Station 3

Hier gibt es eine Gelegenheit, um sich auszuruhen.
Auf welchem Material liegt die Sitzfläche aus Holz
auf? (Ihr habt das Material schon an der
Friedensbrücke gesehen)



Station 4

Geht zum Kran, auf der Mainseite und blickt dann nach oben. Auf der anderen Straßenseite schieben sich mehrere Gebäude über die Straße. Warum kippen sie nicht auf uns? Die Zeichnungen helfen Dir.



Station 5

Bäume begleiten unseren Weg am Main entlang. Es sind:

— — — — —

➤ Geht bis zur nächsten Brücke. (= Flusskrebsteig)

Station 6

Begeht Euch auf die Brücke und blickt Richtung Ende des Hafenbeckens. Dort befinden sich 2 große Gebäude mit großen Glasflächen.

Zeichne auf die Rückseite mit einer Linie zunächst den Umriss des einen Baukörpers und anschließend den des anderen.



Station 7


Geht zurück an das Ufer und blickt auf die Wohntürme am gegenüberliegenden Ufer. Worauf stehen die Gebäude?

Auf **P** _____

Station 8

Lauft weiter am Main entlang. Bei den Wohnhäusern entdeckt Ihr diese Bänke. Steigt die Treppenstufen hinauf und betrachtet sie genauer. Nenne 2 Funktionen:

1. Du kannst Dich hinsetzen.
2. Durch die Schlitze strömt:



(Funktion 2. hat etwas mit der Garage unter der Bebauung zu tun)

Station 9

Nun geht dicht an der Fassade der Häuser entlang. Das ist keine „gewöhnliche“ Wand. Aus welchem Material besteht sie?



Ist die Wand eben? (Bitte ankreuzen)

Ja

Nein

Station 10


Betrachtet den „gläsernen Turm“ vor Euch. Zeichnet sein Raster in das Feld unten:



Vielleicht erinnert Dich das Muster an ein berühmtes
Frankfurter Trinkgefäß? Welches?

Station 11

Wenn Du links an dem Turm vorbeigehst, erblickst Du ein weiteres
Gebäude aus einem anderen Material. Gehe um das Gebäude herum
und zeichne den Grundriss in den Kasten.



Hat ein Gebäude in der Nähe den gleichen Grundriss?
Wenn ja, welches?

➤ Wir gehen weiter am Main entlang.

Station 12

Du kommst an einem Restaurant vorbei.
An was erinnert Dich die Form des Gebäudes?



➤ Biege links in den tropischen Garten mit dem Namen „Nizza“ ein.

Station 13

Findet exotische Pflanzen, z. B. eine.....

- Bananenstaude
- Palme
- Feigenbaum

(So sieht z.B. eine Bananenstaude aus →).



Findet die Steinplatte mit einem Hinweis auf den
Gründer des Gartens. Wie ist sein Name?

➤ Geht zum Main, zur Untermainbrücke.

Station 14

An dieser Brücke entdeckst Du eine Figur/Gestalt, die Dir bekannt
ist? Woher kennst Du sie?

Station 15

Geht zu dem eingeschossigen Gebäude in der Nähe.
Wer nutzt es? (Notiere die Anfangsbuchstaben in die Quadrate)
Auf der Metallplatte an der Fassade findest Du die Erklärung.

➤ Geht weiter in Richtung Osten bis zur nächsten Brücke

Station 16

Wie heißt diese Brücke?

Das Baumaterial und ein Schild helfen Dir dabei den Namen zu
finden.

Wie kann ein Rollstuhlfahrer auf die Brücke gelangen?

Diese Schilder hängen auf unterschiedlicher Höhe und zeigen Jahreszahlen. Was zeigen diese an?

Das Geburtsjahr bekannter Frankfurter Persönlichkeiten

Den höchsten Stand des Hochwassers in diesem Jahr

Das Baujahr eines Bauwerks der gezeigten Höhe




➤ Nachdem Ihr die Straße bei der Ampel überquert habt, haltet an!

Station 17

Sucht diese beiden Köpfe und lauscht der Geschichte. Wer hat keinen Zoll bezahlt? Bitte ankreuzen





➤ Geht zum Fachwerkhäus auf der linken Seite des Weges: Haus Wertheim

Station 18

Wann wurde das Haus erbaut?

Baujahr: _ _ _ _

Wie hat sich ein Besucher früher bemerkbar gemacht, wenn er an einer Haustür stand?

➤ Geht zum großen roten Haus mit den drei Treppengiebeln, auf der linken Seite des Platzes. Das ist das Frankfurter Rathaus: der „Römer“.

Station 19

Wie heißen die 4 Figuren in Sandstein an der Fassade des Rathauses? Notiere ihre 4 Vornamen.

Welche Instrumente spielen die Figuren an der Fassade des Rathauses?

Gehe zur um die Ecke (Südfassade des Rathauses) und finde das Fallrohr. Wer scheint das Rohr zu halten? (Bitte ankreuzen)

- Eine Fantasiegestalt
- Ein Mensch
- Eine Katze

Betrachte genau das Fenster neben dem Fallrohr.
Wer macht da was?

 Dreht Euch um und geht zum Gerechtigkeitsbrunnen.

Station 20

Mit welchem Symbol zeigt die Figur im Brunnen ihren Sinn für Gerechtigkeit?

Station 21

Schau neben dem Brunnen auf den Boden. Im Belag ist ein Kreis zu entdecken. Was sollte dort errichtet werden und wie hoch?

Höhe, geplant: _____ m

Station 22

Im Bodenbelag sind die 4 Eckpunkte der Ochsenküche eingelassen.

O K

Schreite von einem Eckpunkt zum nächsten in großen Schritten
(1 Schritt ist ungefähr ein Meter) und zähle sie.
So kannst Du den Umfang der Küche messen.

Umfang der Küche : _____ m

Weißt du eigentlich was eine Ochsenküche ist? Rate mal!

Station 23

Finde diese Figur aus Sandstein.

Wie heißt das Gasthaus, an dem Du sie entdeckst?

Was unterscheidet sie von den anderen Figuren?



Station 24

Drehe dich um und finde ein Schild an einer Fassade, das Dir
einen Hinweis auf das Baujahr der Häuser nebenan gibt.

Wann wurde die Fachwerkhäuserzeile gegenüber dem Rathaus
wieder aufgebaut?

Baujahr _ _ _ _ bis _ _ _ _

Vor wie vielen Jahren wurde das letzte Haus fertiggestellt ?

Vor _ _ Jahren

Klasse! Ihr habt viele Fragen beantwortet und kennt nun
Orte in Frankfurt, die noch nicht jeder entdeckt hat.
Herzlichen Glückwunsch!